

數神助理選舉統計工作紙(三年級)

天主教伍華小學 製作者： _____
 三年級數學科
 數神助理選舉統計 班 別： _____

數王統計了「數神助理選舉」中各級學生投給數帝的票數。

(一) 根據投票結果，完成下表中所有的統計。

級別	一	二	三	四	五	六
投票統計	正	正一	正正正	正	丁	正
票數		6			2	

(二) 根據統計結果，完成以下的象形圖。

「數神助理選舉」各級學生投給數帝的票數統計象形圖



每個  代表一票

一年級	_____	_____	四年級	_____	_____

數王統計了「數神助理選舉」中各級學生投給速算人的票數。

(一)根據投票結果，完成下表中所有的統計。

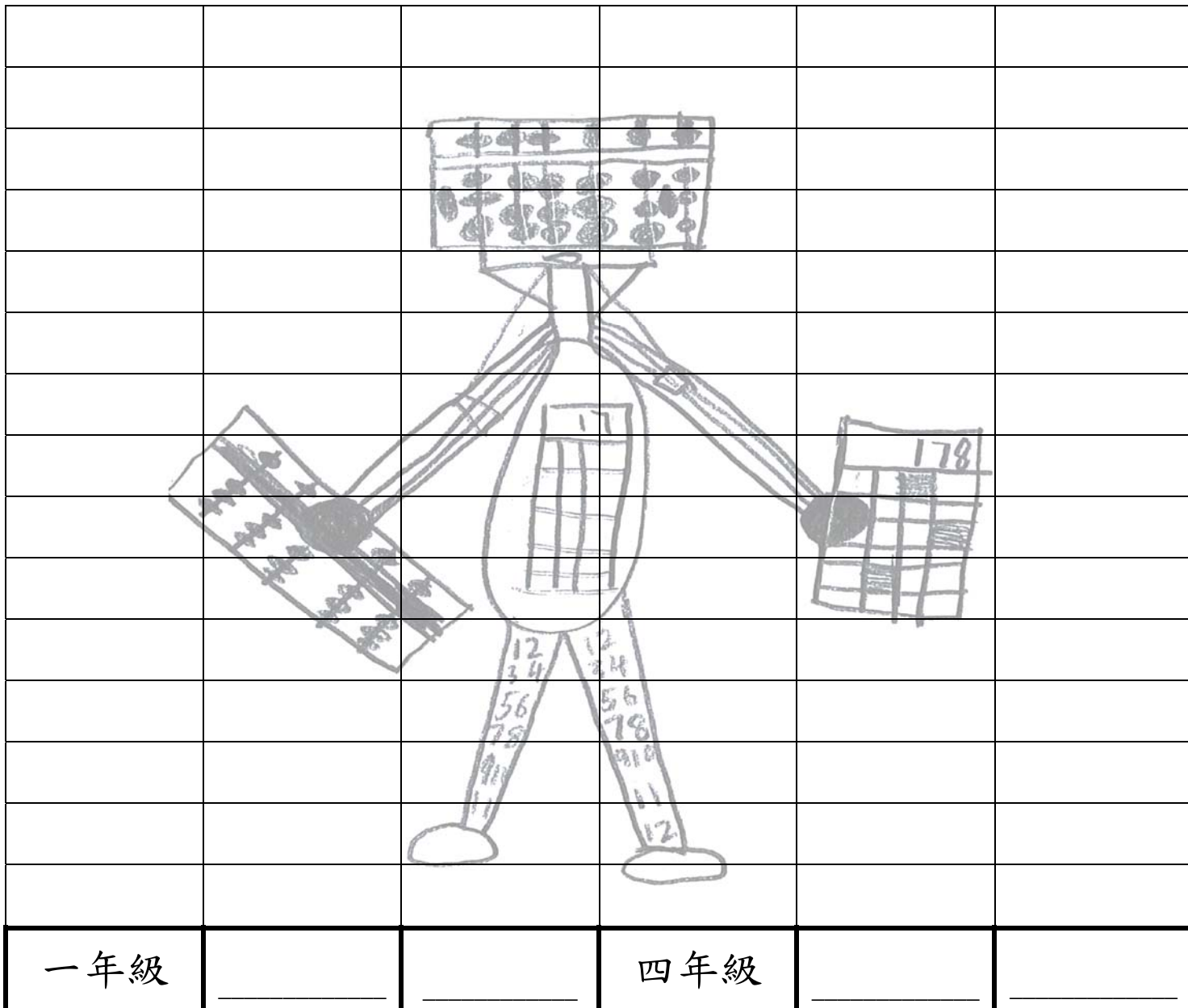
年級	一	二	三	四	五	六
投票統計	—	正正	┐	正正┐	正┐	—
票數		10			7	

(二)根據統計結果，完成以下的象形圖。

「數神助理選舉」各級學生投給速算人的票數



每個 代表一票



天主教伍華小學
 三年級數學科
 數神助理選舉統計

製作者： _____

班 別： _____

數王統計了「數神助理選舉」中各級學生投給數碼BB的票數。

(一)根據投票結果，完成下表中所有的統計。

年級	一	二	三	四	五	六
投票統計	\overline{IF}	$\overline{\quad}$	$\overline{\quad}$	\overline{T}	\overline{IF}	
票數		1				0

(二)根據統計結果，完成以下的象形圖。

「數神助理選舉」各級學生投給數碼BB的票數



每個  代表一票

一年級	_____	_____	四年級	_____	_____

數王統計了數神助理選舉中各級學生投給數姐的票數。

(一)根據投票結果，完成下表中所有的統計。

級別	一	二	三	四	五	六
投票統計		正	下	正正		
票數		5			0	

(二)根據統計結果，完成以下的象形圖。

「數神助理選舉」各級學生投給數姐的票數統計象形圖



每個  代表一票

			10		12
	km				
	4				
	5				
	cm				
	m				
一年級	_____	_____	四年級	_____	_____

天主教伍華小學
 三年級數學科
 數神助理選舉統計

製作者： _____

班 別： _____

數王統計了「數神助理選舉」中各級學生投給數熊的票數。

(一)根據投票結果，完成下表中所有的統計。


級別	一	二	三	四	五	六
投票統計	正 一	下	下		正	
票數		3				0

(二)根據統計結果，完成以下的象形圖。

「數神助理選舉」各級學生投給數熊的票數統計象形圖



每個 代表一票



天主教伍華小學
三年級數學科
數神助理選舉統計

製作者： _____

班 別： _____

數王統計了「數神助理選舉」各級學生投給數學小神童的票數。

(一)根據投票結果，完成下表中所有的統計。

級別	一	二	三	四	五	六
投票統計	┐	正 丩	┌		正 丩	
票數		9				0

(二)根據統計結果，完成以下的象形圖。

「數神助理選舉」各級學生投給數學小神童的票數統計象形圖



每個 代表一票

一年級	_____	_____	四年級	_____	_____

數王統計了「數神助理選舉」各級學生投給數學小魔女的票數。

(一)根據投票結果，完成下表中所有的統計。


級別	一	二	三	四	五	六
投票統計	正 一	一		丁	下	
票數		1	0			

(二)根據統計結果，完成以下的象形圖。

「數神助理選舉」各級學生投給數學小魔女的票數統計象形圖




每個  代表一票



「我最喜愛的數神助理」選舉候選的數神助理



候選數神助理：數帝



候選數神助理：速算人



候選數神助理：數碼 BB



候選數神助理：數姐



候選數神助理：數熊



候選數神助理：數學小神童



數神助理：數學小魔女

