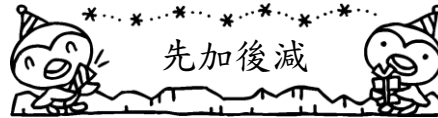



# 數神火車加減篇工作紙




第一車卡




第二車卡



第三車卡




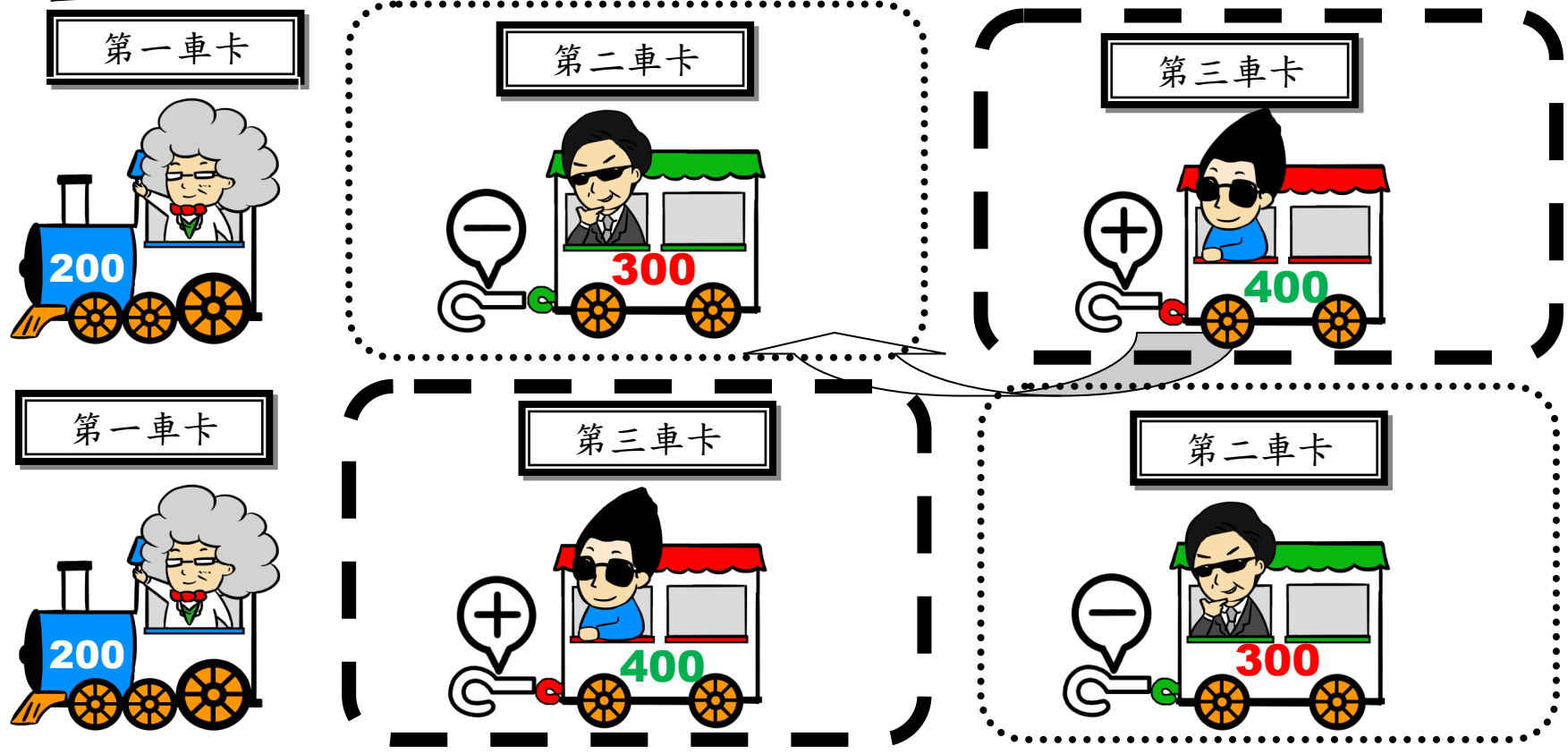
大家好！我是數王，我遇到一個難題呀！我車卡上的數值是「200」，要我減去 Master Maths 車卡上的數值「300」，但「200」 $<$ 「300」，我想來想去都計算不到，怎麼辦？

數王，不用怕！讓我來救救你吧！你可以重新排列車卡的先後次序，進行「先加後減」，那麼，你就可以計算出答案。緊記！每個車鈎是屬於後面的一個車卡的。讓我幫幫你吧！





數王，你可以把第二和第三車卡的位置轉換，別忘記要連同  一起轉換。



轉換位置後，進行「先加後減」，我們便計算得到了

$$200 + 400 - 300$$

$$= 600 - 300$$

$$= 300$$




你真厲害！讓我試試吧！




第一車卡



第二車卡



第三車卡



「400」<「800」，減不到，讓我轉換第二和第三車卡的位置吧！




第一車卡



第三車卡



第二車卡



轉換位置後，進行「先加後減」， $400 + 500 - 800$   
 $= 900 - 800$   
 $= 100$



小朋友，你們也試試吧！



日期：\_\_\_\_\_

成績：\_\_\_\_\_

		新的排序方式	計算
例.	$\boxed{123} - \boxed{320} + \boxed{420}$	$\boxed{123} + \boxed{420} - \boxed{320}$	$\begin{aligned} &123+420-320 \\ &=543-320 \\ &=223 \end{aligned}$
1.	$\boxed{161} - \boxed{264} + \boxed{562}$	$\boxed{\phantom{000}} \ominus \boxed{\phantom{000}} \ominus \boxed{\phantom{000}}$	$\begin{aligned} &= \underline{\hspace{2cm}} \\ &= \underline{\hspace{2cm}} \end{aligned}$
2.	$\boxed{233} - \boxed{381} + \boxed{543}$	$\boxed{\phantom{000}} \ominus \boxed{\phantom{000}} \ominus \boxed{\phantom{000}}$	$\begin{aligned} &= \underline{\hspace{2cm}} \\ &= \underline{\hspace{2cm}} \end{aligned}$
3.	$\boxed{111} - \boxed{425} + \boxed{606}$	$\boxed{\phantom{000}} \ominus \boxed{\phantom{000}} \ominus \boxed{\phantom{000}}$	$\begin{aligned} &= \underline{\hspace{2cm}} \\ &= \underline{\hspace{2cm}} \end{aligned}$