


活動工作紙(普通版及調適版)




香港浸信會聯會小學
三年級下學期 3S4 三角形 活動工作紙(1e)

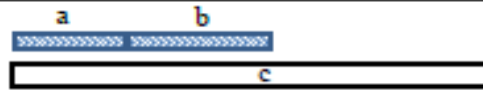
數學科 姓名：_____ () 班別：_____ 日期：_____

黃飲管 a (cm)	黃飲管 b (cm)	
6	9	黃飲管 a、b 之和 比紅飲管 c (長 / 短 / 相同) ()cm ()cm

畫出結果：(能 / 不能) 製作出三角形

黃飲管 a (cm)	黃飲管 b (cm)	
6	9	黃飲管 a、b 之和 與橙飲管 c (長 / 短 / 相同) ()cm ()cm

畫出結果：(能 / 不能) 製作出三角形

黃飲管 a (cm)	黃飲管 b (cm)	
6	9	黃飲管 a、b 之和 比藍飲管 c (長 / 短 / 相同) ()cm ()cm

畫出結果：(能 / 不能) 製作出三角形

我發現要製作出三角形：

三角形較_____的兩條邊長之和的長度要比最_____的邊 (長 / 短)



數學科 姓名：_____ () 班別：_____ 日期：_____

黃飲管 a (cm)	黃飲管 b (cm)	飲管 a + 飲管 b (cm)	$</ = / >$	紅飲管 c (cm)	結果 (\checkmark / \times)

畫出結果：

黃飲管 a (cm)	黃飲管 b (cm)	飲管 a + 飲管 b (cm)	$</ = / >$	橙飲管 c (cm)	結果 (\checkmark / \times)

畫出結果：

黃飲管 a (cm)	黃飲管 b (cm)	飲管 a + 飲管 b (cm)	$</ = / >$	藍飲管 c (cm)	結果 (\checkmark / \times)

畫出結果：

我發現要製作一個三角形：

--